

ශ්‍රී ලංකා විභාග දෙපාර්තමේන්තුව ශ්‍රී ලංකා විභාග දෙපාර්තමේන්තුව ශ්‍රී ලංකා විභාග දෙපාර්තමේන්තුව
 இலங்கைப் பரீட்சைத் திணைக்களம் இலங்கைப் பரීட்சைத் திணைக்களம் இலங்கைப் பரීட்சைத் திணைக்களம்
 Department of Examinations, Sri Lanka Department of Examinations, Sri Lanka Department of Examinations, Sri Lanka
41 STE I, II

අධ්‍යයන පොදු සහතික පත්‍ර (සාමාන්‍ය පෙළ) විභාගය, 2019 දෙසැම්බර්
 கல்விப் பொதுத் தராதரப் பத்திர (சாதாரண தர)ப் பரீட்சை, 2019 டிசெம்பர்
General Certificate of Education (Ord. Level) Examination, December 2019

සංගීතය (අපරදිග) I, II
 சங்கீதம் (மேலைத்தேய) I, II
Music (Western) I, II

10.12.2019 / 0830 - 1140

පැය තුනයි
 மூன்று மணித்தியாலம்
Three hours

අමතර කියවීමේ කාලය - මිනිත්තු 10 යි
 மேலதிக வாசிப்பு நேரம் - 10 நிமிடங்கள்
Additional Reading Time - 10 minutes

අමතර කියවීමේ කාලය ප්‍රශ්න පත්‍රය කියවා ප්‍රශ්න තෝරා ගැනීමටත් පිළිතුරු ලිවීමේදී ප්‍රමුඛත්වය දෙන ප්‍රශ්න සංවිධානය කර ගැනීමටත් යොදාගන්න.
 வினாப்பத்திரத்தை வாசித்து, வினாக்களைத் தெரிவுசெய்வதற்கும் விடை எழுதும்போது முன்னுரிமை வழங்கும் வினாக்களை ஒழுங்கமைத்துக் கொள்வதற்கும் மேலதிக வாசிப்பு நேரத்தைப் பயன்படுத்துக.
Use additional reading time to go through the question paper, select the questions and decide on the questions that you give priority in answering.

සංගීතය (අපරදිග) / சங்கீதம் (மேலைத்தேய) / Music (Western) I

සැලකිය යුතුයි/முக்கியம்/ Note :

- (i) සියලු ම ප්‍රශ්නවලට පිළිතුරු සපයන්න.
 எல்லா வினாக்களுக்கும் விடை தருக.
Answer all questions.
- (ii) 1-40 තෙක් ප්‍රශ්නවල (1), (2), (3), (4) පිළිතුරුවලින් නිවැරදි හෝ වඩාත් ගැළපෙන හෝ පිළිතුර තෝරා ගන්න.
 1 தொடக்கம் 40 வரையுள்ள ஒவ்வொரு வினாவிலும் (1), (2), (3), (4) என எண்ணிடப்பட்ட விடைகளில் சரியான அல்லது மிகப் பொருத்தமான விடையைத் தெரிவுசெய்க.
 From each of the questions 1 to 40, pick one of the alternatives (1), (2), (3), (4) which you consider is correct or most appropriate.
- (iii) ඔබට සැපයෙන පිළිතුරු පත්‍රයේ එක් එක් ප්‍රශ්නය සඳහා දී ඇති කව අතුරෙන් ඔබ තෝරා ගත් පිළිතුරේ අංකයට සැසඳෙන කවය තුළ (X) ලකුණ යොදන්න.
 உமக்கு வழங்கப்பட்டுள்ள விடைத்தாளில் ஒவ்வொரு வினாவுக்கும் உரிய வட்டங்களில் உமது விடையின் இலக்கத்தை ஒத்த வட்டத்தினுள்ளே புள்ளடியை (X) இடுக.
Mark a cross (X) on the number corresponding to your choice in the answer sheet provided.
- (iv) එම පිළිතුරු පත්‍රයේ පිටුපස දී ඇති අනෙක් උපදෙස් ද සැලකිල්ලෙන් කියවා, ඒවා ද පිළිපදින්න.
 விடைத்தாளின் மறுபக்கத்தில் தரப்பட்டுள்ள மற்றைய அறிவுறுத்தல்களையும் கவனமாக வாசித்து அவற்றைப் பின்பற்று.
Further instructions are given on the back of the answer sheet. Follow them carefully.

1. ලබා දී ඇති බාර් එක සඳහා සුදුසු ටයිම් සිග්නේචරය වන්නේ මෙවැනි කුමක්ද?
 பின்வருவனவற்றுள் தரப்பட்டுள்ள பார் இற்குப் பொருத்தமான ரைம் சிக்னேச்சர் எது?
Which of the following is the correct time signature for the given bar?




- (1) $\frac{6}{8}$ (2) $\frac{3}{4}$ (3) $\frac{9}{8}$ (4) $\frac{9}{16}$

2. පහත දැක්වෙන සංගීත බාර් එක ටයිම් සිග්නේචරයට අනුව සම්පූර්ණ වීමට අවශ්‍ය රෙස්ට් දී ඇති ඒවායින් කුමක්ද?
 பின்வரும் இசை பார் இனை ரைம் சிக்னேச்சருக்கு ஏற்ப பூரணமாக்குவதற்குத் தேவையான ரெஸ்ட் தரப்பட்டுள்ளவற்றுள் எது?
Which of the following rests would suit to complete the given bar according to the time signature?



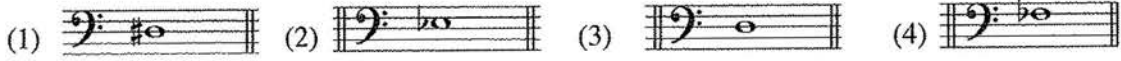
- (1) $\frac{3}{4}$ (2) $\frac{1}{2}$ (3) $\frac{3}{4}$ (4) $\frac{1}{4}$

3. දී ඇති ඛණ්ඩයේ නිශ්ශබ්ද ක්‍රොමට් බීට් ගණන කොපමණ ද?
 தரப்பட்டுள்ள துண்டத்தில் ஓசை இல்லாதது உள்ள குறோசட் பீற்கள் எத்தனை?
 In the given illustration how many crotchet beats are silent?

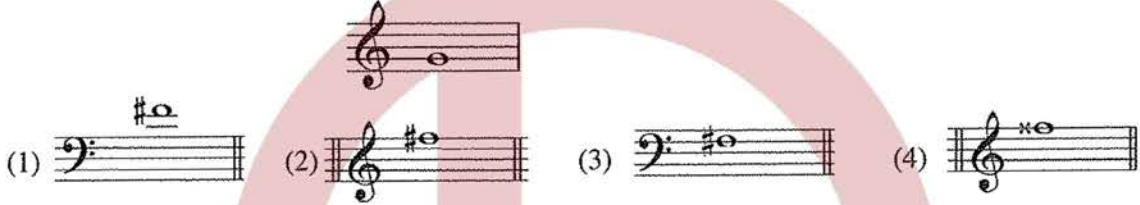


- (1) 5 (2) $5\frac{1}{2}$ (3) 6 (4) $6\frac{1}{2}$

4. දී ඇති ඒවායින් මිඩල් C එකට ටෝන් 5 ක් පහළින් ඇති ස්වරය කුමක් ද?
 தரப்பட்டுள்ளவற்றுள் மிடில் C இற்கு 5 ரோன்கள் கீழாக உள்ள ஸ்வரம் எது?
 Which of the following notes is five tones below Middle C?



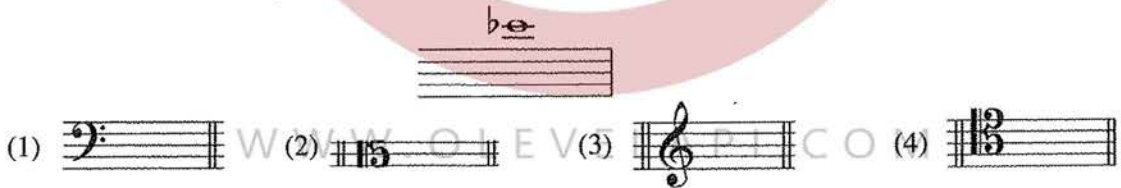
5. දී ඇති ස්වරයට මේජර් 7 ක් ඉහළ ස්වරය පහත සඳහන් ඒවායින් කුමක් ද?
 பின்வருவனவற்றுள் தரப்பட்டுள்ள ஸ்வரத்துக்கு மேஜர் 7 மேலான ஸ்வரம் எது?
 Which note of the following would form a Major 7th above the given note?



6. ඇල්ටෝ ක්ලෝ හි ස්වේච්ඡේ පහළ පළවෙනි ලෙජර් ලයිනයේ ස්වරය වන්නේ පහත ඒවායින් කුමක් ද?
 பின்வருவனவற்றுள் அல்ரோ கிளவ் இன் ஸ்ரேவ் இற்குக் கீழே முதலாம் லெஜர் லைனின் ஸ்வரமாவது எது?
 Which of the following is the letter name of the note on the first Leger line below the staff of the Alto clef?

- (1) A (2) C (3) D (4) B

7. දී ඇති ක්ලෝ අතරින් පහත ස්වරය E^b වීම සඳහා යෙදිය යුත්තේ කුමක් ද?
 தரப்பட்டுள்ள கிளேவ்களுள் பின்வரும் ஸ்வரம் E^b ஆவதற்குப் பயன்படுத்த வேண்டியது எது?
 Which of the following clefs should be used to make the given note E^b?



8. ඔක්ටෝව් එකක් තුළ ඇති ටෝන් ගණන කොපමණ ද?
 ஒக்ரேவ் ஒன்றினுள் எத்தனை ரோன்கள் உள்ளன?
 How many tones are there within any octave?
- (1) 3 (2) 4 (3) 5 (4) 6

9. එකම කී සිග්නේචරය සහිත ස්කේල් යුගලය වනුයේ මේවායින් කුමක් ද?
 பின்வருவனவற்றுள் ஒத்த கீ சிக்னேச்சரைக் கொண்ட ஸ்கேல்களின் சோடி எது?
 Which of the following pairs of scales would have the same Key signature?

- (1) B^b major/E^b minor (2) F minor/A^b major
 (3) C[#] minor/D major (4) E major/C minor

17. දී ඇති අංකරණය හඳුන්වා දෙන්නේ පහත කුමක් මගින් ද?
 பின்வருவனவற்றுள் தரப்பட்டுள்ள ஓர்ணமென்ற இணை விவரிப்பது எது?
 Which of the following describes the given ornament?



- (1) Mordent (2) Acciaccatura
 (3) Inverted turn (4) Arpeggio

18. දී ඇති ඒවායින් කුමන කේවන්සය වෙනිකේ සිට වෙනිකේ කේවය පාවිච්චි කරන්නේ ද?
 பின்வருவனவற்றுள் ரொனிக் தொடக்கம் டொமினன்ற கோட் இணைப் பயன்படுத்தி உருவான கேடன்ஸ் எது?
 Which of the following cadence is made up of the chords tonic to dominant?

- (1) Interrupted cadence (2) Perfect cadence
 (3) Plagal cadence (4) Imperfect cadence

19. ස්වරයකට ඉහළින් තිත්ක් මගින් නිරූපණය වන්නේ කුමක් ද?
 ஸ்வரத்துக்கு மேலாக ஒரு புள்ளி என்பதனால் குறிப்பிடப்படுவது என்ன?

What is indicated by a dot above a note?

- (1) Play the note with an accent (2) Play the note smoothly
 (3) Play the note detached (4) Play the note adding half its value to its length

20. දී ඇති ඒවා අතරින් එක රීඩයක් ඇත්තේ කුමන වාද්‍ය භාණ්ඩයට ද?
 பின்வருவனவற்றுள் தனி ரீட் இணைக் கொண்ட இசைக்கருவி எது?
 Which of the following is a single reed instrument?

- (1) Trumpet (2) Clarinet (3) Oboe (4) Bassoon

21. වාද්‍යය කරන ස්වරයට වඩා පර්ලෙක්ට් පහක් පහළින් හඬ නංවන වාද්‍ය භාණ්ඩය වන්නේ කුමක් ද?
 இசைக்கப்படும் ஸ்வரத்தை விட ஐந்து பேர்பெக்ட் கீழாக ஒலி எழுப்பும் இசைக்கருவி எது?
 Which instrument sounds a perfect 5th lower than the played note?

- (1) Piccolo (2) Cor Anglais (3) Trumpet in B \flat (4) Clarinet in A

22. පහත ඒවා අතරින් චෛන් සංගීත භාණ්ඩයක් වන්නේ කුමක් ද?
 பின்வருவனவற்றுள் ட்ரோன் இசைக்கருவி எது?
 Which of the following is the drone instrument?

- (1) Oboe (2) Mandoline (3) Tamera (4) Sitar

23. දී ඇති සංගීත ඛණ්ඩය B \flat ට්‍රම්පට් එකෙන් වාද්‍යය වන විට ඇසෙන්නේ කුමන වරණයෙන් දැක්වෙන ආකාරයට ද?
 தரப்பட்டுள்ள இசைப் பெயர்ப்பு B \flat ட்ரம்பற் இல் இசைக்கப்படும்போது பின்வருவனவற்றுள் எதில் குறிப்பிடப்பட்டுள்ளவாறு கேட்கக்கூடியதாக இருக்கும்?
 Which of these would be heard when the given musical extract is played on a Trumpet in B \flat ?



24. දී ඇති ස්වරය වාද්‍යය කරන ආකාරය දැක්වෙන්නේ කුමකින් ද?
 தரப்பட்டுள்ள ஸ்வரத்தை இசைக்கும் விதம் இவற்றில் எதில் விவரிக்கப்பட்டுள்ளது?
 Which illustrates the way the given note is played?



33. නාඩගම් ගීතයක් වන්නේ මින් කුමක් ද?
பின்வருவனவற்றுள் நாடகம் பாடல் எது?
Which is a song from a Nadagam?
(1) Suwanda Padma (2) Danno Budunge
(3) Shantha Johnge Weediye Kade (4) Wasana dineki
34. තුරංගා වන්නමෙන් විස්තර කරනු ලබන්නේ කිනම් සත්ත්වයකුගේ ඇවිදින ආකාරය ද?
பின்வருவனவற்றுள் எந்த மிருகத்தின் நடக்கும் விதம் துரங்கா வன்னத்தில் விவரிக்கப்படுகிறது?
Which animal's gait is described in the Thuranga Vannam?
(1) Horse (2) Rabbit (3) Elephant (4) Snake
35. ඔකෙස්ට්‍රල් කෘතියක් වන්නේ මින් කවරක් ද?
பின்வருவனவற்றுள் ஒகெஸ்ட்ரல் ஆக்கம் எது?
Which is an orchestral composition?
(1) Liebestraum (2) Gollywog's cake walk
(3) Lohengrin (4) Bolero
36. දී ඇති සංගීතඥයන් අතරින් ජැස් සංගීතය සමඟ සබඳතා නොදක්වන්නේ කවරෙක් ද?
பின்வரும் இசை ஆக்குநர்களில் ஜாஸ் இசையுடன் தொடர்பில்லாதவர் யார்?
Which of the following composers is **not** associated with Jazz music?
(1) Louis Armstrong (2) Prokofiev
(3) Scott Joplin (4) Duke Ellington
37. පහත දැක්වෙන කුමක් වැරදි ප්‍රකාශයක් වේ ද?
பின்வருவனவற்றுள் பிழையான கூற்று எது?
Which of the following is a **false** statement?
(1) MIDI is a standard way of connecting one keyboard with another.
(2) Synthesizers can record, edit replay music.
(3) DJs use a mixing desk to combine different tracks.
(4) Sampler is a piece of equipment that can record, process and playback bits of sound
38. මැන්ඩලීනයක සාමාන්‍යයෙන් තත් කීයක් තිබේදැයි දැක්වෙන්නේ පහත දී ඇති කුමන වරණයෙන් ද?
பின்வருவனவற்றுள் மன்டொலின் ஒன்றில் பொதுவாகப் பயன்படுத்தப்படும் நரம்புகளின் எண்ணிக்கையைக் குறிப்பிடுவது எது?
Which of the following states the number of strings commonly used in a mandolin?
(1) Four double metal strings (2) Five single strings
(3) Six single strings (4) Eight double metal strings
39. පියානෝව පමණක් භාවිත කරන කෘති වර්ගය කුමක් ද?
பின்வருவனவற்றுள் பியானோ மாத்திரம் பயன்படுத்தப்படும் இசை ஆக்கம் எது?
Which composition uses only the Piano?
(1) Blues (2) Swing (3) Rag time (4) Be Bop
40. දී ඇති ඒවායින් වුම් කීට එකට අයත් නොවන්නේ මින් කවරක් ද?
பின்வருவனவற்றுள் ட்ரம் கிற் இற்கு உரித்தல்லாதது எது?
Which of the following does not belong to a Drum kit?
(1) Floor Tom (2) Ride Cymbal (3) Tom tom (4) Conga drum

* *