

ශ්‍රී ලංකා විභාග දෙපාර්තමේන්තුව ශ්‍රී ලංකා විභාග දෙපාර්තමේන්තුව ශ්‍රී ලංකා විභාග දෙපාර්තමේන්තුව ශ්‍රී ලංකා විභාග දෙපාර්තමේන්තුව ශ්‍රී ලංකා විභාග දෙපාර්තමේන්තුව
 இலங்கைப் பரீட்சைத் திணைக்களம் இலங்கைப் பரීட்சைத் திணைக்களம் இலங்கைப் பரීட்சைத் திணைக்களம் இலங்கைப் பரීட்சைத் திணைக்களம் இலங்கைப் பரීட்சைத் திணைக்களம்
 Department of Examinations, Sri Lanka Department of Examinations, Sri Lanka Department of Examinations, Sri Lanka Department of Examinations, Sri Lanka Department of Examinations, Sri Lanka
 ශ්‍රී ලංකා විභාග දෙපාර්තමේන්තුව ශ්‍රී ලංකා විභාග දෙපාර්තමේන්තුව ශ්‍රී ලංකා විභාග දෙපාර්තමේන්තුව ශ්‍රී ලංකා විභාග දෙපාර්තමේන්තුව ශ්‍රී ලංකා විභාග දෙපාර්තමේන්තුව
 இலங்கைப் பரීட்சைத் திணைக்களம் இலங்கைப் பரීட்சைத் திணைக்களம் இலங்கைப் பரීட்சைத் திணைக்களம் இலங்கைப் பரීட்சைத் திணைக்களம் இலங்கைப் பரීட்சைத் திணைக்களம்
 Department of Examinations, Sri Lanka Department of Examinations, Sri Lanka Department of Examinations, Sri Lanka Department of Examinations, Sri Lanka Department of Examinations, Sri Lanka

61 | S | I, II

අධ්‍යයන පොදු සහතික පත්‍ර (සාමාන්‍ය පෙළ) විභාගය, 2019 දෙසැම්බර්
 கல்விப் பொதுத் தராதரப் பத்திர (சாதாரண தர)ப் பரீட்சை, 2019 டிசெம்பர்
 General Certificate of Education (Ord. Level) Examination, December 2019

ඉගෙනුම විද්‍යාව	I, II
புவியியல்	I, II
Geography	I, II

ඉගෙනුම විද්‍යාව II

- * මෙම ප්‍රශ්න පත්‍රය I හා II වශයෙන් කොටස් දෙකකින් සමන්විත ය.
- * I කොටසේ ප්‍රශ්නය අනිවාර්ය වේ. එහි (අ), (ආ) සහ (ඉ) කොටස් තුනටම පිළිතුරු සැපයිය යුතු ය.
- * II කොටසින් ප්‍රශ්න හතරකට පිළිතුරු සැපයිය යුතු ය.
- * පිළිතුරු සැපයිය යුතු මුළු ප්‍රශ්න සංඛ්‍යාව ෧෨කි.

I කොටස

1. (අ) ඔබ වෙත සපයා ඇති 1:50 000 භූ ලක්ෂණ සිතියම කොටස අධ්‍යයනය කර, ඒ ඇසුරෙන් අසා ඇති ප්‍රශ්නවලට පිළිතුරු සපයන්න. පිළිතුරු ලිවීම සඳහා ඔබ වෙත සපයා ඇති කඩදාසිය (පිටු අංක 8) යොදා ගන්න.
- අංක (i) සිට (iii) දක්වා ඇති ප්‍රශ්නවලට ගැළපෙන පිළිතුර වරහන් තුළින් තෝරා ලියන්න.
- (i) (A) - (B) රේඛාවෙන් දක්වා ඇති භූ ලක්ෂණය කුමක් ද?
 (අවතල බැවුම / උත්තල බැවුම / මොහොර) (ලකුණු 01 යි)
 - (ii) (C) අක්ෂරයෙන් දක්වා ඇත්තේ කුමක් ද?
 (ලඳු කැලෑ / තණ බිම් / වනාන්තර) (ලකුණු 01 යි)
 - (iii) (D) අක්ෂරයෙන් දක්වා ඇත්තේ කුමක් ද?
 (පටු දුම්ඵල මාර්ගය / පුළුල් ඒකීය දුම්ඵල මාර්ගය / පුළුල් ද්විත්ව දුම්ඵල මාර්ගය) (ලකුණු 01 යි)
 - (iv) (E) අක්ෂරයෙන් දක්වා කොටුකර ඇති ප්‍රදේශයේ ව්‍යාප්තව ඇති ප්‍රධාන ව්‍යාපාරික බෝගය කුමක් ද?
 (ලකුණු 01 යි)
 - (v) (H) අක්ෂරයෙන් දක්වා කොටුකර ඇති ප්‍රදේශයෙහි දක්නට ලැබෙන පොදු සේවා සැපයෙන ආයතන තුනක් නම් කරන්න. (ලකුණු 03 යි)
- සිතියම් ප්‍රදේශය පිළිබඳ ප්‍රකාශ දෙකක් (vi) හා (vii) ප්‍රශ්නවලින් දැක්වේ. ඒ එක් එක් ප්‍රකාශය කියා බලා නිවැරදි නම් කී යන්න ද වැරදි නම් වැ යන්නද පිළිතුරු පත්‍රයේ ඒ ඒ ප්‍රශ්න අංකය ඉදිරියෙන් ලියා දක්වන්න.
- (vi) සිතියම් කොටසෙහි දැක්වෙන ප්‍රදේශය ශ්‍රී ලංකාවේ පළාත් කීපයකට අයත් බවට සාධක ඇත. (ලකුණු 01 යි)
 - (vii) (X) මංසන්ධියේ සිට (Y) මංසන්ධිය තෙක් විහිදෙන මහා මාර්ග කොටසෙහි දුර කි. මී. 4කි. (ලකුණු 01 යි)
 - (viii) සිතියමට පහළින් (P), (Q) හා (R) වශයෙන් දක්වා ඇඳ ඇති රේඛීය පරිමාණ අතුරෙන් නිවැරදිව ඇඳ ඇති පරිමාණ රේඛාවට හිමි අක්ෂරය පිළිතුරු පත්‍රයේ ඊට නියමිත ස්ථානයේ ලියා දක්වන්න. (ලකුණු 01 යි)
- (ආ) ඔබ වෙත සපයා ඇති ලෝක සිතියම හොඳින් අධ්‍යයනය කර, පහත සඳහන් ප්‍රශ්නවලට පිළිතුරු සපයන්න. පිළිතුරු සැපයීම සඳහා ලෝක සිතියමට යාබදව දක්වා ඇති තීරුව (පිටු අංක 9) යොදා ගන්න.
- අංක (i) සිට (v) තෙක් එක් එක් ප්‍රශ්නයට ඉදිරියෙන් දී ඇති ඉංග්‍රීසි අක්ෂර තුන අතුරෙන් නිවැරදි පිළිතුර දැක්වෙන අක්ෂරය සිතියමෙන් තෝරා සිතියමට යාබදව ඇති තීරුවේ එක් එක් ප්‍රශ්න අංකය ඉදිරියේ ඇති කොටුව තුළ ලියා දක්වන්න.
- (i) නයිජර් ගංගාව - (A), (B), (C)
 - (ii) මෑතක දී ලැව් ගිනි නිසා විනාශ වීමේ තර්ජනයට මුහුණපා ඇති ඇමෙරිකන් වනාන්තර - (D), (E), (F)
 - (iii) හොං කොං - (G), (H), (J)
 - (iv) හිම කඳු දියවීමේ තර්ජනයට ලක්ව ඇති ග්‍රීන්ලන්තය - (K), (L), (M)
 - (v) ඩැමෝඩාර් යකඩ හා වානේ කාර්මික ප්‍රදේශය - (P), (Q), (R)
- (ලකුණු 05 යි)

(ඉ) ඔබ වෙත සපයා ඇති ශ්‍රී ලංකා සිතියම හොඳින් අධ්‍යයනය කර, පහත සඳහන් ප්‍රශ්නවලට පිළිතුරු සපයන්න. පිළිතුරු සැපයීම සඳහා ලංකා සිතියමට යාබදව දක්වා ඇති තීරුව (පිටු අංක 9) යොදා ගන්න.

අංක (i) සිට (v) තෙක් එක් එක් ප්‍රශ්නයට ඉදිරියෙන් දී ඇති ඉංග්‍රීසි අක්ෂර තුන අතුරෙන් නිවැරදි පිළිතුර දැක්වෙන අක්ෂරය සිතියමෙන් තෝරා සිතියමට යාබදව ඇති තීරුවේ එක් එක් ප්‍රශ්න අංකය ඉදිරියේ ඇති කොටුව තුළ ලියා දක්වන්න.

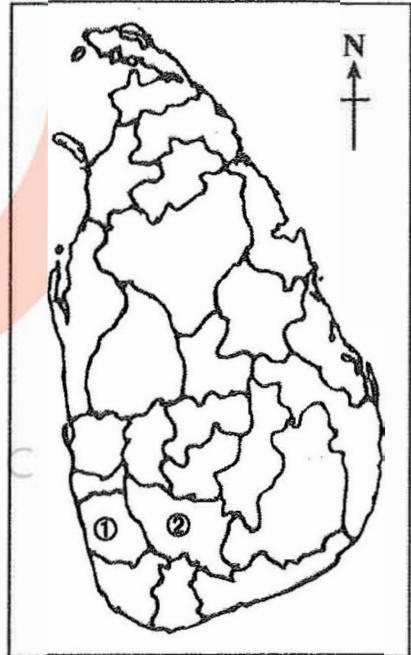
- (i) කසළ රඳවනය පිහිටා ඇති අරුවක්කාලු - (A, B, C)
- (ii) බදුල්ල දිස්ත්‍රික්කය - (D, E, F)
- (iii) කන්කසන්තුරේ ධීවර වරාය - (G, H, J)
- (iv) රළ මත ලිස්සා යාමේ ක්‍රීඩාවට ප්‍රසිද්ධ ස්ථානයක් වූ ආරුගමුවේ - (K, L, M)
- (v) සංචාරක ආකර්ෂණයක් වූ මාදු ගඟ - (P, Q, R)

(ලකුණු 05 යි)

II කොටස

- 2. (i) පෘථිවි වායුගෝලයේ ස්තර අතුරෙන්
 - (a) සියලු කාලගුණික සංසිද්ධීන් හටගන්නා ස්තරයේ නම ද
 - (b) ඉතා අධික උෂ්ණත්වයක් ඇති ස්තරයේ නම ද අනුපිළිවෙළින් ලියා දක්වන්න. (ලකුණු 02 යි)
- (ii) මිනිසාගේ ප්‍රයෝජනය සඳහා ඉතිරිව ඇති මිරිදිය ජලයේ ගුණාත්මකභාවය අඩු වීම කෙරෙහි බලපා ඇති හේතු තුනක් සඳහන් කරන්න. (ලකුණු 03 යි)
- (iii) වනාන්තර විනාශ වීම ජෛවගෝලීය උප පද්ධතියෙහි පැවැත්ම කෙරෙහි බලපාන ආකාරය කරුණු තුනක් ඇසුරෙන් පැහැදිලි කරන්න. (ලකුණු 05 යි)

- 3. (i) යාබදව දක්වා ඇති ශ්‍රී ලංකා සිතියමෙහි රබර් වගාව සඳහා වැදගත්වන අංක ①න් සහ අංක ②න් දක්වා ඇති දිස්ත්‍රික්ක දෙක මොනවා දැයි අනුපිළිවෙළින් නම් කරන්න. (ලකුණු 02 යි)
- (ii) ශ්‍රී ලංකාවේ රබර් කර්මාන්තය වර්තමානයේ මුහුණ පා ඇති ගැටලු තුනක් සඳහන් කරන්න. (ලකුණු 03 යි)
- (iii) රබර් අමුද්‍රව්‍යයක් ලෙස අපනයනය කිරීම වෙනුවට දේශීය කර්මාන්ත සඳහා යොදා ගැනීම හා නිමිභාණ්ඩ ලෙස අපනයනය කිරීම ශ්‍රී ලංකාවේ ආර්ථික සංවර්ධනයට හේතු වන ආකාරය කරුණු තුනක් ඇසුරෙන් පැහැදිලි කරන්න. (ලකුණු 05 යි)



WWW.OLEVELAPI.C

- 4. (i) ජලය හැරුණු විට විදුලිබල උත්පාදනය සඳහා ශ්‍රී ලංකාවේ බහුලව භාවිත කෙරෙන බලශක්ති ප්‍රභව දෙක නම් කරන්න. (ලකුණු 02 යි)
- (ii) බලශක්ති පරිහරණයේ දී මතුවන ගැටලු තුනක් සඳහන් කරන්න. (ලකුණු 03 යි)
- (iii) බලශක්ති අරපිරිමැස්මෙන් භාවිත කිරීම මගින් අත්වන වාසි තුනක් විස්තර කරන්න. (ලකුණු 05 යි)

5. අතීතයේ බොහෝ යුරෝපා රටවල දියුණුවට පත්ව තිබූ නැව් තැනීමේ කර්මාන්තය වර්තමානයේ ලෝකයේ ප්‍රමුඛ නිෂ්පාදන කර්මාන්තයක් බවට පත්ව ඇත.

- (i) අතීතයේ යුරෝපා රටවල නැව් තැනීමේ කර්මාන්තය දියුණු වීමට බලපෑ හේතු දෙකක් ලියා දක්වන්න. (ලකුණු 02 යි)
- (ii) නැව් තැනීමේ කර්මාන්තය සම්බන්ධ නූතන ප්‍රවණතා තුනක් සඳහන් කරන්න. (ලකුණු 03 යි)
- (iii) (a) ශ්‍රී ලංකාවේ බෝට්ටු නිෂ්පාදන කර්මාන්තයෙහි මෑතකාලීනව වර්ධනයක් දක්නට ඇත. ඊට හේතු දෙකක් පැහැදිලි කරන්න.
- (b) ලෝකයේ නිෂ්පාදන කර්මාන්ත සම්බන්ධ
 - (I) අමුද්‍රව්‍ය ආශ්‍රිත ගැටලුවක් ද
 - (II) වෙළෙඳපොළ ආශ්‍රිත ගැටලුවක් ද
 කෙටියෙන් විස්තර කරන්න. (ලකුණු 05 යි)

6. (i) (a) කටුක දේශගුණික සාධකවල බලපෑම නිසා අප්‍රිකාවේ හීන ජනව්‍යාප්තියක් ඇති ප්‍රදේශයක් ද
 (b) රළු භූ විෂමතාව බලපෑම නිසා ආසියා මහාද්වීපයේ හීන ජනව්‍යාප්තියක් ඇති ප්‍රදේශයක් ද පිළිවෙළින් නම් කරන්න. (ලකුණු 02 යි)

(ii) (a) සංවර්ධනය වෙමින් පවතින රටවල ජනසංඛ්‍යා වර්ධනය වේගවත්ව සිදු වීම නිසා එම රටවල් මුහුණපාන ගැටලු දෙකක් ද
 (b) සංවර්ධිත රටවල බෙහෙවින් අඩු ජනසංඛ්‍යා වර්ධනය නිසා එම රටවල් මුහුණපාන ගැටලු එකක් ද සඳහන් කරන්න. (ලකුණු 03 යි)

(iii) ශ්‍රී ලංකාවේ ජනසංඛ්‍යා ව්‍යුහය ආශ්‍රිත ව පැනනැගී ඇති ගැටලු තුනක් දක්වා ඉන් එකක් විස්තර කරන්න. (ලකුණු 05 යි)

7. (i) ශ්‍රී ලංකාවේ ප්‍රාදේශීය සංවර්ධනය තුළින් ඉටුකර නැතිමට බලාපොරොත්තු වන මූලික අරමුණ කුමක් දැයි සඳහන් කරන්න. (ලකුණු 02 යි)

(ii) ශ්‍රී ලංකාවේ ප්‍රාදේශීය සංවර්ධන වැඩපිළිවෙළ යටතේ ග්‍රාමීය සංවර්ධනය සඳහා ක්‍රියාත්මක කෙරෙන ව්‍යාපෘති තුනක් නම් කරන්න. (ලකුණු 03 යි)

(iii) ශ්‍රී ලංකාවේ මහා මාර්ග හා දුම්රිය මාර්ග සංවර්ධනය සඳහා මෑත දී ගෙන ඇති ක්‍රියාමාර්ග තුනක් නම් කර ඒවා රටේ සංවර්ධනයට හේතු වී ඇති ආකාරය පැහැදිලි කරන්න. (ලකුණු 05 යි)

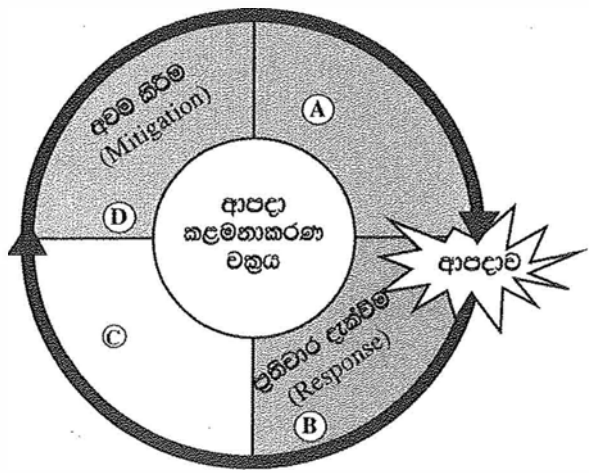
8. (i) මිනිස් ක්‍රියාකාරකම්වල බලපෑමෙන් තොරව හටගන්නා ස්වාභාවික උපද්‍රව දෙකක් නම් කරන්න. (ලකුණු 02 යි)

(ii) පහත (A), (B) හා (C) වලින් දක්වා ඇති දිස්ත්‍රික්කවලට ප්‍රබලව බලපාන ස්වාභාවික උපද්‍රවය කුමක් දැයි අනුපිළිවෙළින් නම් කරන්න.
 (A) - කළුතර හා රත්නපුර
 (B) - අනුරාධපුර හා මන්නාරම
 (C) - කෑගල්ල හා නුවරඑළිය (ලකුණු 03 යි)

WWW.OLEVELAPI.COM

(iii) (a) යාබද ව ඇති ආපදා කළමනාකරණ චක්‍රය රූපසටහනෙහි (A) හා (C) අවස්ථා දෙක මොනවා දැයි පිළිවෙළින් නම් කරන්න.

(b) රූපසටහනෙහි දැක්වෙන (B) අවස්ථාවේ දී ක්‍රියා කළ යුතු ආකාරය ක්‍රියාමාර්ග දෙකක් ඇසුරෙන් පැහැදිලි කරන්න. (ලකුණු 05 යි)



ශ්‍රී ලංකා විභාග දෙපාර්තමේන්තුව/இலங்கைப் பரீட்சைத் திணைக்களம்/Department of Examinations, Sri Lanka

අධ්‍යයන පොදු කමිටු පත්‍ර (සාමාන්‍ය පෙළ) විභාග 2019 දෙසැම්බර්

සංස්ථිත බෞද්ධි තරාතිරම පරීක්ෂණ (සාමාන්‍ය) පරීட்சණ, 2019 දසැම්බර්

General Certificate of Education (Ord. Level) Examination, December 2019

විභාග අංකය

සටහන

Index Number

(61) භූගෝල විද්‍යාව II
 புலியியல் II
 Geography II

1. (අ) / (அ) / (a)

(i)

(ii)

(iii)

(iv)


(v)

(vi) WWW.OLEVELAPI.COM

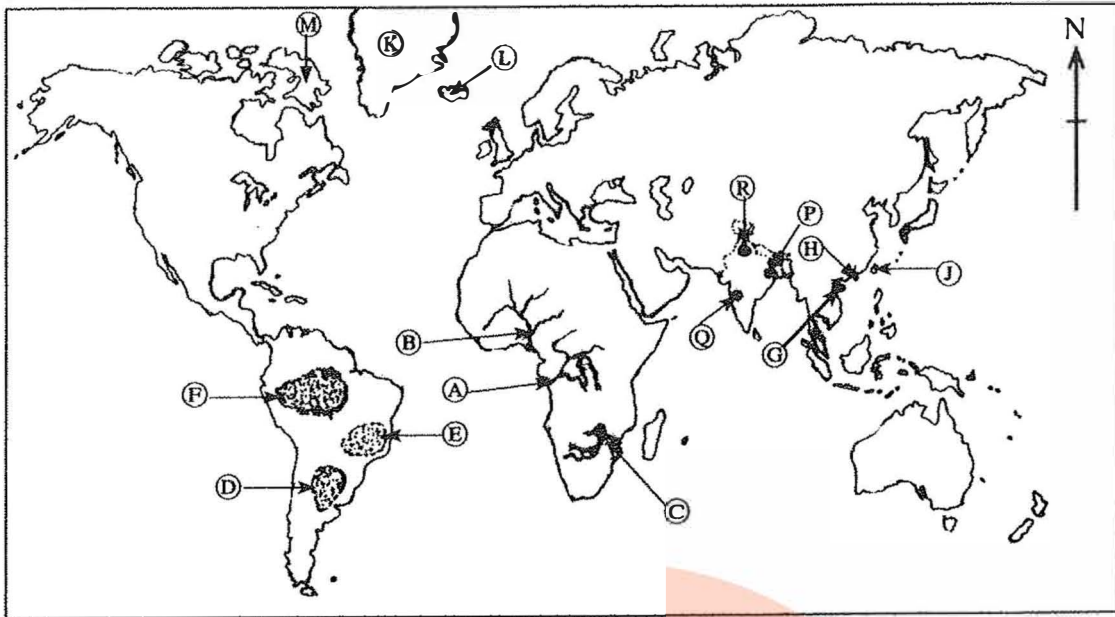
(vii)

(viii)

පරීක්ෂකවරයාගේ ප්‍රයෝජනය පිණිසයි.
 பரீட்சකரின் உபயோகத்திற்கு மட்டும்
 For Examiner's Use Only

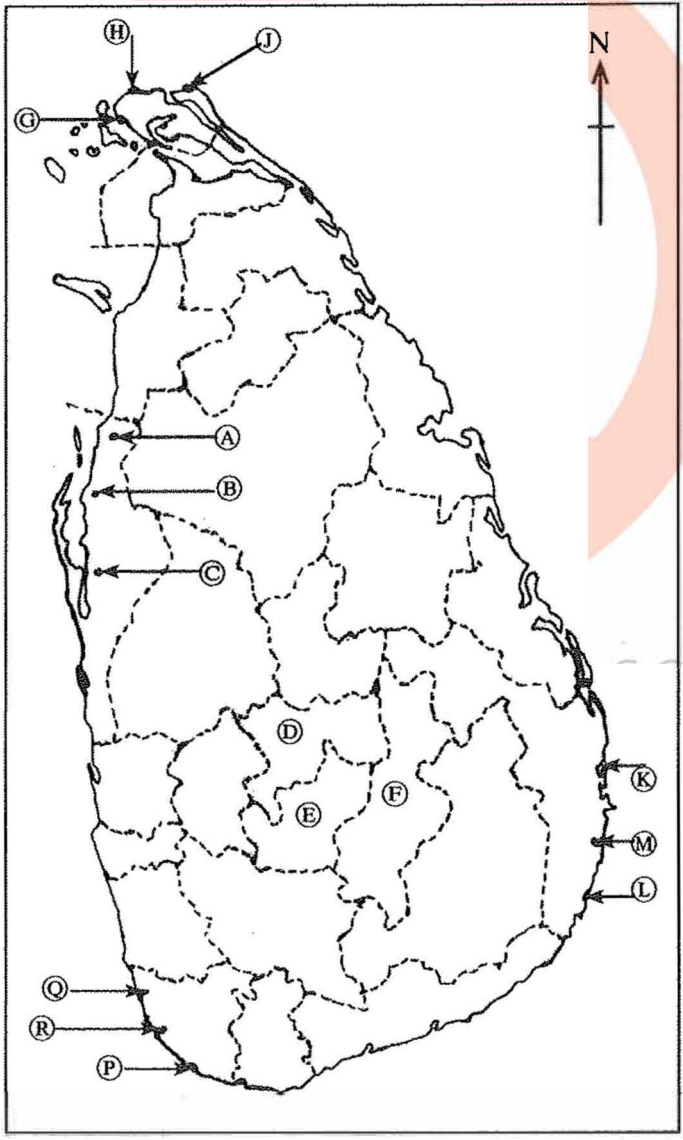


(ආ) / (ඈ) / (b)



- (i)
- (ii)
- (iii)
- (iv)
- (v)
- 5

(ඉ) / (ඔ) / (c)



- (i)
- (ii)
- (iii)
- (iv)
- (v)
- 5

I. (ආ) (ඈ) (a) $\frac{10}{10}$

(ආ) (ඈ) (b) $\frac{5}{5}$

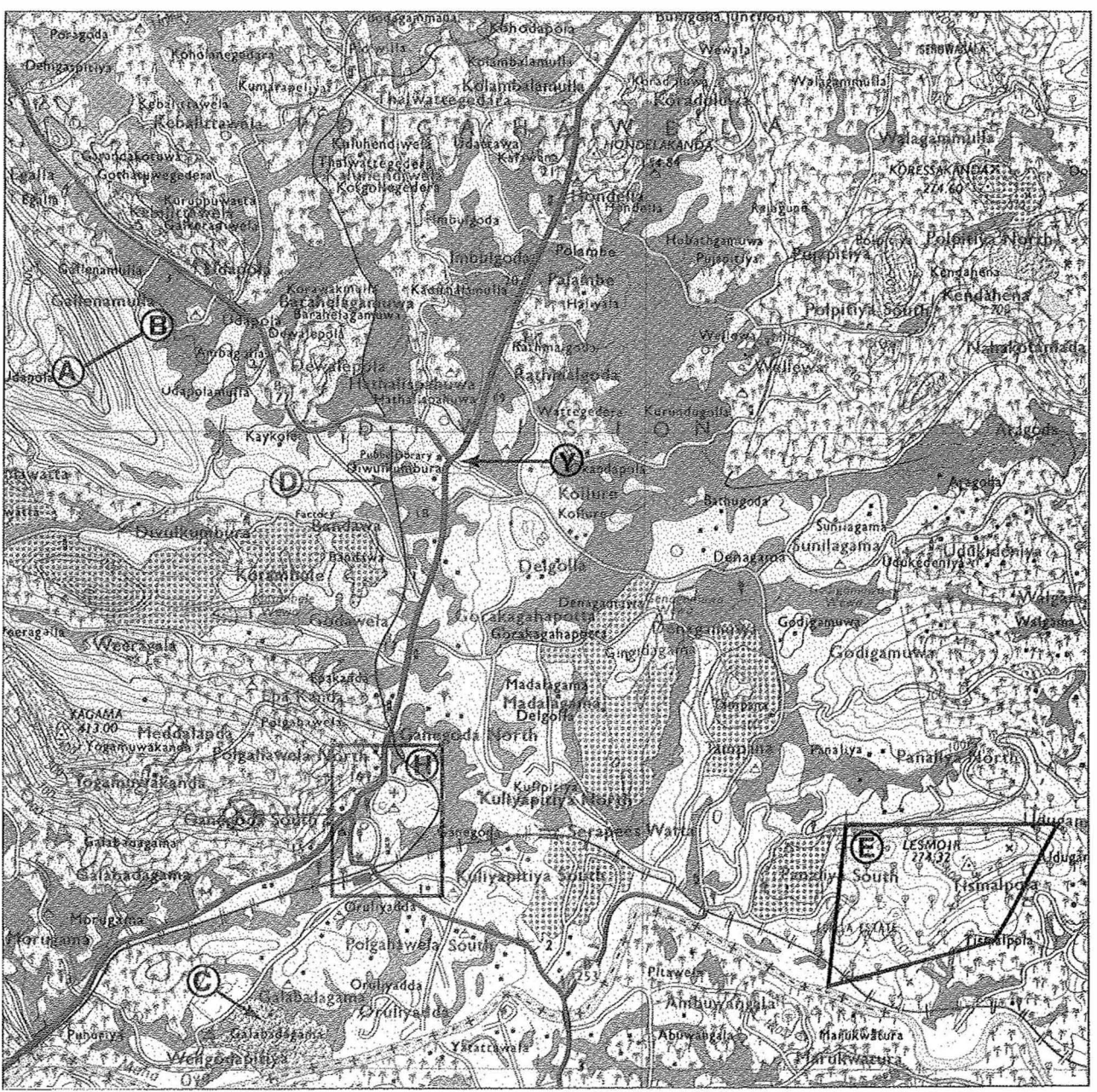
(ඉ) (ඔ) (c) $\frac{5}{5} = \frac{20}{20}$

ශ්‍රී ලංකා විභාග දෙපාර්තමේන්තුව ශ්‍රී ලංකා විභාග දෙපාර්තමේන්තුව ශ්‍රී ලංකා විභාග දෙපාර්තමේන්තුව ශ්‍රී ලංකා විභාග දෙපාර්තමේන්තුව ශ්‍රී ලංකා විභාග දෙපාර්තමේන්තුව
 இலங்கைப் பரீட்சைத் திணைக்களம் இலங்கைப் பரීட்சைத் திணைக்களம் இலங்கைப் பரීட்சைத் திணைக்களம் இலங்கைப் பரීட்சைத் திணைக்களம் இலங்கைப் பரීட்சைத் திணைக்களம்
 Department of Examinations, Sri Lanka Department of Examinations, Sri Lanka Department of Examinations, Sri Lanka Department of Examinations, Sri Lanka Department of Examinations, Sri Lanka

61 II

අධ්‍යයන පොදු සහතික පත්‍ර (සාමාන්‍ය පෙළ) විභාගය, 2019 දෙසැම්බර්
 கல்விப் பொதுத் தராதரப் பத்திர (சாதாரண தர)ப் பரீட்சை, 2019 டிசம்பர்
 General Certificate of Education (Ord. Level) Examination, December 2019

භූගෝල විද්‍යාව II / புறியியல் II / Geography II



SCALE : 1 : 50 000

